



Prefeitura Municipal de Rio Novo

Processo Seletivo Simplificado

001/2017

**Para Contratação e Formação de
Cadastro Reserva para Contratação Temporária
por Excepcional Interesse Público**

CADERNO DE QUESTÕES

CARGO:

Servente Escolar

(Atendimento às Escolas)

Nº INSCRIÇÃO:

NOME:

ASSINATURA:

INSTRUÇÕES GERAIS

Você recebeu do Fiscal de Sala os seguintes materiais:

- **CARTÃO DE RESPOSTAS**, onde o candidato deverá examinar se o número de inscrição impresso está correto.
- **CADERNO DE QUESTÕES**, onde o Candidato deverá preencher a próprio punho e com **LETRA DE FORMA LEGÍVEL** o nome, o número de inscrição e assinar como no documento de identificação.
- Este caderno contém 10 QUESTÕES distribuídas em **PÁGINAS NUMERADAS**.
- Caso haja irregularidade, comunique-a imediatamente ao Fiscal de Sala.

Atenção: NÃO ABRA este caderno até que o fiscal sinalize o início da prova.

A duração da prova é de 2h (duas horas). Este tempo inclui o preenchimento do Cartão de Respostas e a Prova Escrita.

- Verifique, no Caderno de Questões se faltam folhas, se a sequência e o número de questões conferem. Não destaque folhas da Prova. **É permitido ao candidato somente destacar na linha pontilhada, o gabarito rascunho da última página desde caderno, sem danificar o material.**
- Durante a realização das provas não será permitido qualquer espécie de consulta ou comunicação entre os candidatos, nem a utilização de livros, apontamentos, manuais, ou impressos,

bem como, máquina calculadora, telefone móvel, agenda eletrônica ou similares, relógio do tipo data-bank, bip, MP3, gravador ou qualquer outro transmissor/receptor de mensagens, sob pena de exclusão do concurso, devendo mantê-los DESLIGADOS e devidamente identificado pelo fiscal de sala, ou qualquer outro material.

- É expressamente proibido ao candidato entrar ou permanecer com armas no local de realização das provas. Caso o candidato detenha a posse de arma, deverá ser orientado a entregá-la na Coordenação e buscá-la no término das provas;
- Ao terminar a conferência do Caderno de Questões, caso o mesmo esteja incompleto ou tenha qualquer defeito, o (a) candidato (a) deverá solicitar ao fiscal de sala que o substitua, não cabendo reclamações posteriores neste sentido.
- O Caderno de Questões pode ser usado livremente para fazer rascunhos, a fim de concluir pelas respostas às questões formuladas.
- A interpretação das questões é parte do processo de avaliação, não sendo permitido perguntas aos Fiscais de Sala. Cabe única e exclusivamente ao candidato interpretar e decidir.
- Nesta prova, as questões são de Múltipla Escolha com 05 (Cinco) alternativas (A, B, C, D e E) para resposta, sendo adotada, para fins de correção, uma única resposta correta por questão.
- Transcreva para o cartão de respostas o resultado que julgar correto em cada questão, preenchendo o círculo correspondente, à caneta com tinta azul-escura ou preta, conforme o exemplo a seguir:

Questão Resposta
00 (A) ● (C) (D) (E)

- Não haverá substituição do cartão de respostas por erro de preenchimento. No cartão de respostas, marcação de mais de uma alternativa em uma mesma questão, rasuras e preenchimento além dos limites do círculo destinado para cada marcação poderão anular a questão. O cartão de respostas não pode ser dobrado, amassado, rasurado, manchado ou conter qualquer registro fora dos locais destinados às respostas.
- O candidato só poderá retirar-se da Sala de aplicação da prova após 40 (quarenta) minutos de seu início. Somente em caso de urgência, pedir ao fiscal para ir ao sanitário, devendo no percurso permanecer absolutamente calado, podendo antes e depois da entrada no sanitário sofrer revista.

Ao concluir a prova, permaneça em seu lugar e comunique ao Fiscal de Sala. Aguarde autorização para devolver, em separado, o Caderno de Questões contendo a Prova Objetiva e o Cartão de Respostas, **DEVIDAMENTE ASSINADO**.

Esclarecendo que por razões de segurança, a Administração de Talentos Humanos disponibilizará as Questões da Prova Objetiva no site <http://www.rionovo.mg.gov.br/processo-seletivo> a partir das 9 horas do dia 27 de Novembro de 2017.

- Não serão dadas, por telefone, informações a respeito de gabarito, do resultado e recursos. As informações serão publicadas na internet. O Gabarito desta Prova será divulgado no site <http://www.rionovo.mg.gov.br/processo-seletivo> no dia 27 de Novembro de 2017 à partir das 9:00 horas.

BOA PROVA!

PORTUGUÊS

QUESTÃO 1 – Observe o quadro:



Qual a letra que falta para completar a palavra do quadro acima:

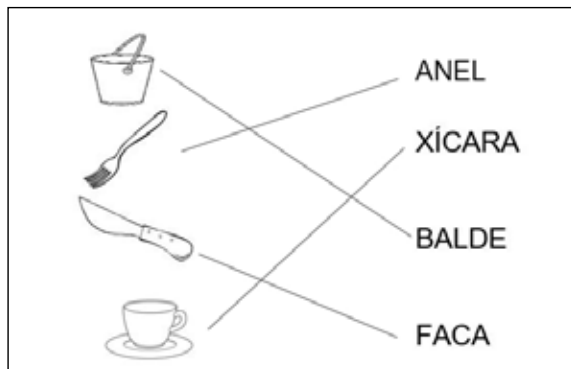
- a) B
- b) Z
- c) S
- d) X
- e) NRA – Nenhuma das Respostas Acima

QUESTÃO 2 – Geralmente a moradia é dividida em cômodos, como o QUARTO, SALA, COZINHA E BANHEIRO. Observe os cômodos da casa da Juliana. De acordo com a numeração do desenho da planta marque o que não está correto:



- a) 1 - SALA
- b) 2 - COZINHA
- c) 3 - QUARTO CASAL
- d) 4 - BANHEIRO
- e) NRA – Nenhuma das Respostas Acima













QUESTÃO 3 – Observe o quadro abaixo:



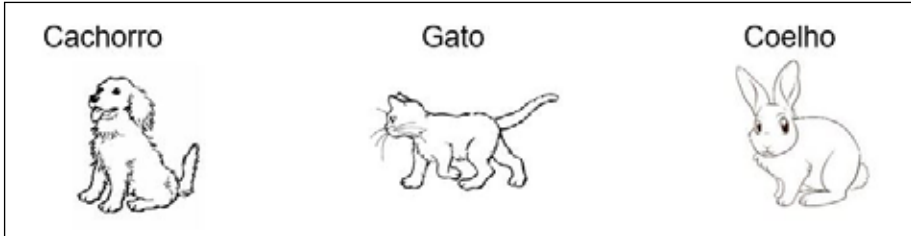
Qual o desenho que está ligado incorretamente à palavra:

- a) BALDE
- b) GARFO
- c) FACA
- d) XÍCARA
- e) NRA – Nenhuma das Respostas Acima

QUESTÃO 4 – Qual alternativa identifica um meio de TRANSPORTE TERRESTRE:

- a)   
Avião Navio Helicóptero
- b)   
Avião Ambulância Ônibus
- c)   
Avião Caminhão Navio
- d)   
Ambulância Ônibus Caminhão
- e) NRA – Nenhuma das Respostas Acima

QUESTÃO 5 – Observe o quadro abaixo:



Qual é o 2º (segundo) animal representado no quadro acima:

- a) Cachorro
- b) Gato
- c) Coelho
- d) Cavalo
- e) NRA – Nenhuma das Respostas Acima

MATEMÁTICA

QUESTÃO 6 – Identifique as figuras abaixo:



Cada mesa tem 4 pés. Quantos pés tem no total de mesas:

- a) 5
- b) 12
- c) 20
- d) 24
- e) NRA – Nenhuma das Respostas Acima

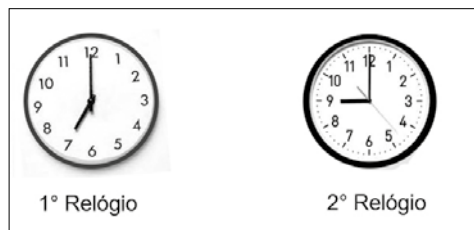
QUESTÃO 7 – Observe as figuras abaixo:



Cada uma das figuras corresponde a uma nota de R\$100,00. O valor somado de todas as notas representadas acima é:

- a) R\$ 100,00
- b) R\$ 200,00
- c) R\$ 300,00
- d) R\$ 400,00
- e) NRA – Nenhuma das Respostas Acima

QUESTÃO 8 – Observe os dois relógios abaixo:



Quantas horas a mais está marcando o 2º Relógio em relação ao 1º Relógio?

- a) 1 hora
- b) 2 horas
- c) 3 horas

d) 4 horas

e) NRA – Nenhuma das Respostas Acima

QUESTÃO 9 – Resolva o seguinte problema.

Elena foi a padaria e comprou R\$10,00 (dez reais) de pães. Cada pão custou R\$ 0,50 (cinquenta centavos). Quantos pães ela comprou? Marque a alternativa correta:

a) 10

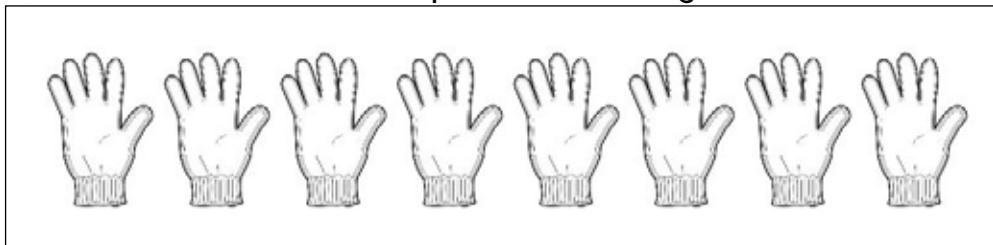
b) 20

c) 30

d) 40

e) NRA – Nenhuma das Alternativas Acima

QUESTÃO 10 – Observe o quadro com as figuras abaixo:



Quantos pares de luva é possível formar:

a) 4

b) 6

c) 8

d) 10

e) NRA – Nenhuma das Respostas Acima

Destaque aqui. Cuidado para não danificar o Caderno de Questões!

RASCUNHO

Gabarito do
Candidato

RASCUNHO

Questão	Resposta
01 -	(A) (B) (C) (D) (E)
02 -	(A) (B) (C) (D) (E)
03 -	(A) (B) (C) (D) (E)
04 -	(A) (B) (C) (D) (E)
05 -	(A) (B) (C) (D) (E)
06 -	(A) (B) (C) (D) (E)
07 -	(A) (B) (C) (D) (E)
08 -	(A) (B) (C) (D) (E)
09 -	(A) (B) (C) (D) (E)
10 -	(A) (B) (C) (D) (E)

