



Prefeitura Municipal de Rio Novo

# Processo Seletivo Simplificado

001/2017

**Para Contratação e Formação de  
Cadastro Reserva para Contratação Temporária  
por Excepcional Interesse Público**

CADERNO DE QUESTÕES

CARGO:

**Oficial de Serviços Públicos  
ELETRICISTA**

Nº INSCRIÇÃO:

NOME:

ASSINATURA:

## **INSTRUÇÕES GERAIS**

**Você recebeu do Fiscal de Sala os seguintes materiais:**

- **CARTÃO DE RESPOSTAS**, onde o candidato deverá examinar se o número de inscrição impresso está correto.
- **CADERNO DE QUESTÕES**, onde o Candidato deverá preencher a próprio punho e com **LETRA DE FORMA LEGÍVEL** o nome, o número de inscrição e assinar como no documento de identificação.
- Este caderno contém 10 QUESTÕES distribuídas em **PÁGINAS NUMERADAS**.
- Caso haja irregularidade, comunique-a imediatamente ao Fiscal de Sala.

**Atenção: NÃO ABRA este caderno até que o fiscal sinalize o início da prova.**

**A duração da prova é de 2h (duas horas). Este tempo inclui o preenchimento do Cartão de Respostas e a Prova Escrita.**

- Verifique, no Caderno de Questões se faltam folhas, se a sequência e o número de questões conferem. Não destaque folhas da Prova. **É permitido ao candidato somente destacar na linha pontilhada, o gabarito rascunho da última página desde caderno, sem danificar o material.**
- Durante a realização das provas não será permitido qualquer espécie de consulta ou comunicação entre os candidatos, nem a utilização de livros, apontamentos, manuais, ou impressos,

bem como, máquina calculadora, telefone móvel, agenda eletrônica ou similares, relógio do tipo data-bank, bip, MP3, gravador ou qualquer outro transmissor/receptor de mensagens, sob pena de exclusão do concurso, devendo mantê-los DESLIGADOS e devidamente identificado pelo fiscal de sala, ou qualquer outro material.

- É expressamente proibido ao candidato entrar ou permanecer com armas no local de realização das provas. Caso o candidato detenha a posse de arma, deverá ser orientado a entregá-la na Coordenação e buscá-la no término das provas;
- Ao terminar a conferência do Caderno de Questões, caso o mesmo esteja incompleto ou tenha qualquer defeito, o (a) candidato (a) deverá solicitar ao fiscal de sala que o substitua, não cabendo reclamações posteriores neste sentido.
- O Caderno de Questões pode ser usado livremente para fazer rascunhos, a fim de concluir pelas respostas às questões formuladas.
- A interpretação das questões é parte do processo de avaliação, não sendo permitido perguntas aos Fiscais de Sala. Cabe única e exclusivamente ao candidato interpretar e decidir.
- Nesta prova, as questões são de Múltipla Escolha com 05 (Cinco) alternativas (A, B, C, D e E) para resposta, sendo adotada, para fins de correção, uma única resposta correta por questão.
- Transcreva para o cartão de respostas o resultado que julgar correto em cada questão, preenchendo o círculo correspondente, à caneta com tinta azul-escuro ou preta, conforme o exemplo a seguir:

Questão                      Resposta  
00                      (A) ● (C) (D) (E)

- Não haverá substituição do cartão de respostas por erro de preenchimento. No cartão de respostas, marcação de mais de uma alternativa em uma mesma questão, rasuras e preenchimento além dos limites do círculo destinado para cada marcação poderão anular a questão. O cartão de respostas não pode ser dobrado, amassado, rasurado, manchado ou conter qualquer registro fora dos locais destinados às respostas.
- O candidato só poderá retirar-se da Sala de aplicação da prova após 40 (quarenta) minutos de seu início. Somente em caso de urgência, pedir ao fiscal para ir ao sanitário, devendo no percurso permanecer absolutamente calado, podendo antes e depois da entrada no sanitário sofrer revista.

Ao concluir a prova, permaneça em seu lugar e comunique ao Fiscal de Sala. Aguarde autorização para devolver, em separado, o Caderno de Questões contendo a Prova Objetiva e o Cartão de Respostas, **DEVIDAMENTE ASSINADO**.

Esclarecendo que por razões de segurança, a Administração de Talentos Humanos disponibilizará as Questões da Prova Objetiva no site <http://www.rionovo.mg.gov.br/processo-seletivo> a partir das 9 horas do dia 27 de Novembro de 2017.

- Não serão dadas, por telefone, informações a respeito de gabarito, do resultado e recursos. As informações serão publicadas na internet. O Gabarito desta Prova será divulgado no site <http://www.rionovo.mg.gov.br/processo-seletivo> no dia 27 de Novembro de 2017 à partir das 9:00 horas.

**BOA PROVA!**

## PORTUGUÊS

**QUESTÃO 1** – - Observe as figuras abaixo:



Identifique a sequência correta do nome das figuras:

- a) BOLA                      DADO                      SAXOFONE
- b) TELEFONE              DADO                      BOLA
- c) DADO                      TELEFONE              BOLA
- d) TELEFONE              ADO                      BOLA
- e) NRA - Nenhuma das Respostas Acima

**QUESTÃO 2** – Identifique através dos desenhos o que está incorreto:









(VACA)

fornece o



(LEITE)

- b)  fornece o   
(GALINHA) (OVO)
- c)  fornece a   
(CARNEIRO) (LÃ)
- d)  fornece a   
(BANANEIRA) (UVA)

e) NRA - Nenhuma das Respostas Acima

**QUESTÃO 3** – Observe o quadro:



A letra que falta para formar a palavra do quadro é:

- a) B
- b) Z
- c) Y
- d) A
- e) NRA – Nenhuma das Respostas Acima

**QUESTÃO 4** – Marque a palavra que está escrita errada:

- a) TIJOLO
- b) BANANA
- c) CASA
- d) BRELO
- e) NRA- Nenhuma das Respostas Acima

**QUESTÃO 5** – A separação correta da palavra DEFINITIVO é:

- a) DE – FI – NI – TI – VO
- b) DEFI – NI – TI – VO
- c) DE – FINI – TI – VO
- d) DEFINITIVO
- e) NRA- Nenhuma das Respostas Acima

**MATEMÁTICA**

**QUESTÃO 6** – Identifique as figuras abaixo:



Cada cadeira possui 4 pés. Quantos pés tem no total de cadeiras acima?

- a) 4
- b) 12
- c) 24
- d) 36
- e) NRA – Nenhuma das Respostas Acima

**QUESTÃO 7** – Marque apenas a sequência correta dos números:

- a) 1, 2, 3, 4, 5.
- b) 21, 22, 23, 34, 15.
- c) 32, 31, 33, 24, 35.
- d) 41, 42, 47, 63, 45.
- e) NRA – Nenhuma das Respostas Acima



**QUESTÃO 8** – Observe as figuras:



Cada uma das figuras corresponde a uma moeda de R\$1,00. O valor somado de todas as moedas de R\$ 1,00 é:

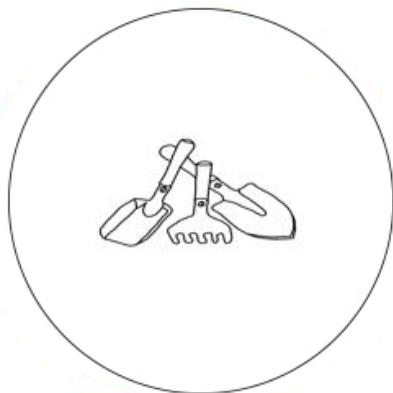
- a) R\$ 2,00
- b) R\$ 4,00
- c) R\$ 6,00
- d) R\$ 8,00
- e) NRA – Nenhuma das Respostas Acima

**QUESTÃO 9** – Olhando as formas abaixo, marque corretamente onde o círculo está:



- a) Entre o triângulo e o quadrado
- b) Entre o quadrado e o triângulo
- c) Entre o triângulo e o retângulo
- d) Não está em lugar nenhum
- e) NRA – Nenhuma das Respostas Acima

**QUESTÃO 10** – Observe os conjuntos abaixo:



A



B

Somando os elementos dos conjuntos A e B, a soma total é:

- a) 10
- b) 9
- c) 8
- d) 7
- e) NRA – Nenhuma das Respostas Acima

Destaque aqui. Cuidado para não danificar o Caderno de Questões!

RASCUNHO

Gabarito do  
Candidato

RASCUNHO

Questão	Resposta
01 -	(A) (B) (C) (D) (E)
02 -	(A) (B) (C) (D) (E)
03 -	(A) (B) (C) (D) (E)
04 -	(A) (B) (C) (D) (E)
05 -	(A) (B) (C) (D) (E)
06 -	(A) (B) (C) (D) (E)
07 -	(A) (B) (C) (D) (E)
08 -	(A) (B) (C) (D) (E)
09 -	(A) (B) (C) (D) (E)
10 -	(A) (B) (C) (D) (E)

